

33

メートル法

～長さ・重さ・かさのたんい～

点数

点

※ p.27 の「30 重さ」のたん元のあとに学習してください。

1 []にあてはまる数を書きましょう。

1つ5点 30点

① 1mは [] cmで、1cmの [] 倍です。

② 1kgは [] gで、1gの [] 倍です。

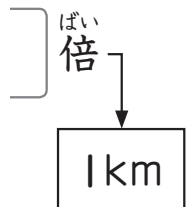
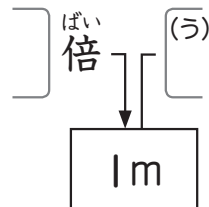
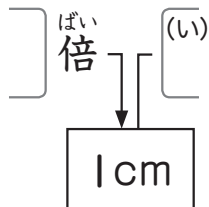
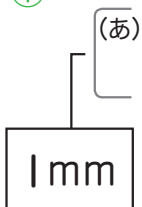
③ 1Lは [] dLで、1dLの [] 倍です。

2

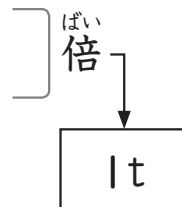
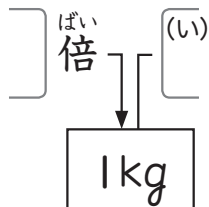
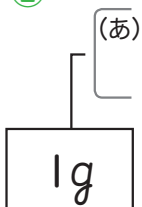
つぎのように、長さ・重さ・かさのたんいのかんけいをまとめました。
[]にあてはまる数を書きましょう。

1つ10点 70点

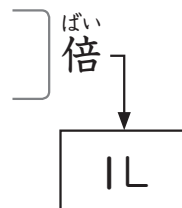
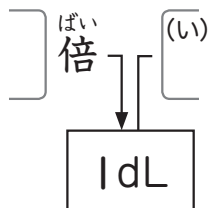
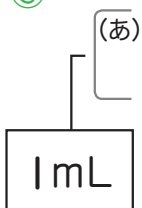
①



②



③



33 メートル法

1 ①100, 100 ②1000, 1000

③10, 10

2 ①(あ)10 (い)100 (う)1000

②(あ)1000 (い)1000

③(あ)100 (い)10

解きかた

2 ①(あ)1cm = 10mm です。

(い)1m = 100cm です。

(う)1km = 1000m です。

②(あ)1kg = 1000g です。

(い)1t = 1000kg です。

③(あ)1dL = 100mL です。

(い)1L = 10dL です。

おかわり
問題

□にあてはまる数を書きましょう。

①1kmは1mの□^{はい}倍です。

②1tは1kgの□^{はい}倍です。

[答え]①1000 ②1000